



نام: ..... نام خانوادگی: .....  
تاریخ: 1399/ 9/18

1- زهرا وزینب برای کوهنوردی به دامنه ی کوه رسیدند. با کمک نقشه ی زیر مسیر مناسب برای شروع حرکت آن ها را مشخص کن.  
مسیر ..... مناسب است. به چه دلیل؟




2- امیر علی و حسین می خواهند کار دستی خود را با میخ به دیوار نصب کنند

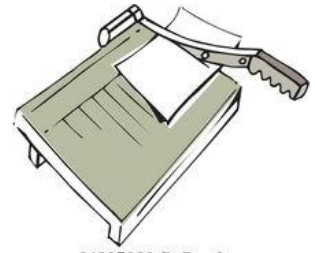


شما با امیر علی موافقت یا حسین؟ ..... چرا؟

3- از این دو چکش، کدام یک برای بیرون کشیدن میخ بهتر است؟ دلیل انتخاب خود را توضیح دهید.



4- به شکل های زیر توجه کن و اهرم های شبیه هم را به یکدیگر وصل کن.



gg64297080 GoGraph.com



Copyright © Photo by Shutterstock



5- تصویر ساده شده برای هر یک از اهرم های زیر بکش.

